



CONCURSO PÚBLICO DA PREFEITURA MUNICIPAL DE TIMÓTEO

EDITAL Nº001/2019 E RETIFICAÇÕES

CARGOS DE NÍVEL FUNDAMENTAL

Motorista de Veículos Leves; Oficial de Obras e Serviços - Bombeiro; Oficial de Obras e Serviços - Calceteiro; Oficial de Obras e Serviços - Carpinteiro; Oficial de Obras e Serviços - Eletricista; Oficial de Obras e Serviços - Jardineiro; Oficial de Obras e Serviços - Pedreiro; Oficial de Obras e Serviços - Pintor; Oficial de Obras e Serviços - Roçadeira; Oficial de Obras e Serviços - Solda; Oficial de Obras e Serviços - Usinagem de Asfalto; Oficial de Obras e Serviços - Pintura Letrista; Operador de Máquinas; Vigia.

INSTRUÇÕES GERAIS

1. A prova terá, no máximo, **4 (quatro)** horas de duração, incluído o tempo destinado à transcrição do gabarito na Folha de Respostas, único documento válido para correção.
2. O candidato deverá conferir os seus dados pessoais na Folha de Respostas, em especial seu nome e o número do documento de identidade.
3. Não haverá substituição da Folha de Respostas por erro do candidato ou por qualquer outro dano.
4. O candidato só poderá se retirar do recinto após **60 (sessenta) minutos**, contados a partir do efetivo início da prova.
5. Este caderno contém 30 questões de múltipla escolha, assim distribuídas:
 - Língua Portuguesa: 15 questões (numeradas de 01 a 15);
 - Atualidades: 5 questões (numeradas de 16 a 20);
 - Matemática: 10 questões (numeradas de 21 a 30);
6. Cada questão apresenta 4 alternativas, de (a) a (d). O candidato deverá lê-las, atentamente, antes de responder a elas.
7. Caso o Caderno não corresponda ao cargo de inscrição, esteja incompleto ou com defeito, o candidato deverá solicitar ao aplicador, durante os primeiros **20 minutos**, as providências cabíveis.
8. O candidato deverá entregar ao aplicador este Caderno de Provas e a Folha de Respostas.
9. O candidato passará o Gabarito para a Folha de Respostas, utilizando caneta esferográfica azul ou preta.

ATENÇÃO: FOLHA DE RESPOSTAS SEM ASSINATURA NÃO TEM VALIDADE

A folha de respostas não deve ser dobrada, amassada ou rasurada

Nome do candidato

Por favor, abra somente quando autorizado.



O GABARITO E O CADERNO DE PROVAS SERÃO DIVULGADOS NO ENDEREÇO ELETRÔNICO:
CONCURSO.FUNDACAOCEFETMINAS.ORG.BR

LÍNGUA PORTUGUESA

As questões de 01 a 04 se referem ao texto a seguir.

Ler por uma vida melhor

Você provavelmente se lembra da famosa frase de escola: “Um bom livro é um bom amigo”. Quem nunca passou uma tarde na companhia de uma leitura que o fez recarregar as baterias e se sentir leve e inspirado? Vamos falar como os livros podem até aumentar sua expectativa de vida.

Um dos sentimentos que temos ao ler um bom livro é a sensação de estarmos imersos na história, criando uma conexão mais forte com personagens e acontecimentos nos quais elas se envolvem. Um estudo da Universidade de Buffalo, feito com 140 estudantes, mostrou que, após meia hora de leitura, os alunos relataram se tornar parte do mundo dos personagens e ter sentimentos de satisfação semelhantes aos que temos durante interações sociais do mundo real. Curioso, né?

Outra pesquisa verificou que, além de mexer com as nossas emoções, a leitura pode melhorar a qualidade de vida. De acordo com análise feita a partir da neurociência, a leitura é benéfica para melhorar nossas habilidades intelectuais, pois ela estimula a cognição social. Para esclarecer, a cognição social está relacionada à forma como processamos e armazenamos a informação.

A importância de manter o hábito de leitura em dia pode trazer mais benefício do que imaginamos. Nesse sentido, um bom escritor é também um bom leitor, pois a leitura de outras obras faz o autor se apoderar de novas formas de aumentar seu vocabulário, melhorar sua capacidade de raciocínio e conhecimento na área. Escrever sua obra é deixar um legado no mundo. E, para alcançar esse objetivo, a leitura é fundamental.

O Tempo. Opinião, p. 13, 7 jan. 2020. Adaptado.

QUESTÃO 01

É correto afirmar que a frase retirada do texto que contém uma opinião é

a) “Um dos sentimentos que temos ao ler um bom livro é a sensação de estarmos imersos na história (...).”

b) “Outra pesquisa verificou que, além de mexer com as nossas emoções, a leitura pode melhorar a qualidade de vida.”

c) “Para esclarecer, a cognição social está relacionada à forma como processamos e armazenamos a informação.”

d) “Um estudo da Universidade de Buffalo, feito com 140 estudantes, mostrou que, após meia hora de leitura, os alunos relataram se tornar parte do mundo dos personagens (...).”

QUESTÃO 02

No trecho “Quem nunca passou uma tarde na companhia de uma leitura que o fez recarregar as baterias e se sentir leve e inspirado?”, é correto afirmar que a expressão sublinhada dá sentido, no texto, de

a) fazer uma pausa.

b) exagerar na carga.

c) recuperar o ânimo.

d) acumular eletricidade.

QUESTÃO 03

Algumas palavras realizam articulações gramaticais e contribuem para construir o significado do texto. Essas palavras são substantivos, pronomes, conjunções, preposições, entre outras.

A esse respeito, é correto afirmar que, dos trechos a seguir, retirados do texto **Ler por uma vida melhor**, a palavra sublinhada se refere a que palavra ou expressão entre colchetes?

a) “(...) criando uma conexão mais forte com personagens e acontecimentos nos quais elas se envolvem.” [pessoas]

b) “Escrever sua obra é deixar um legado no mundo. E, para alcançar esse objetivo, a leitura é fundamental.” [escrever sua obra]

c) “Nesse sentido, um bom escritor é também um bom leitor, pois a leitura de outras obras faz o autor se apoderar de novas formas de aumentar seu vocabulário (...).” [autor]

d) “(...) os alunos relataram se tornar parte do mundo dos personagens e ter sentimentos de satisfação semelhantes aos que temos durante interações sociais do mundo real.” [personagens]

QUESTÃO 04

No trecho “Um dos sentimentos que temos ao ler um bom livro é a sensação de estarmos imersos na história (...)”, é correto afirmar que a palavra sublinhada, sem alteração do sentido, pode ser substituída por

- a) mitigados.
- b) moderados.
- c) mobilizados.
- d) mergulhados.

As questões de 05 a 07 se referem ao texto a seguir.

Insônia

Cinco minutos é tempo de sobra pra uma pessoa pegar no sono, quer ver? Vou pegar no sono em cinco minutos. Boa noite. Estou quase dormindo. Quase. Dormi. Não dormi? Acho que não. Mas vou dormir agora. Senão os pensamentos começam a entrar na minha cabeça e, aí, minha filha, nunca mais. Um pensamento puxa outro, que puxa outro, que puxa outro, parece até que pensamento tem corda. O negócio é não deixar entrar o primeiro, tá vendo? Foi só começar a pensar em não pensar e quando eu vi já estava pensando em pensamento com corda.

Disponível em: <<https://www.facebook.com/174190262716472/posts/210152639120234/>>. Acesso em: 6 jan. 2020. Adaptado.

QUESTÃO 05

O sentido literal ocorre quando as palavras possuem significado próprio, usual, básico; o sentido figurado é aquele que altera o sentido literal, e as palavras ganham um novo significado.

A propósito dos diferentes significados que as palavras podem ter, associe corretamente o tipo de sentido às frases retiradas do texto Insônia.

TIPOS DE SENTIDO

- 1 - Sentido literal
- 2 - Sentido figurado

FRASES

- () “Vou pegar no sono em cinco minutos.”
- () “Estou quase dormindo. Quase.”
- () “Senão os pensamentos começam a entrar em minha cabeça (...)”
- () “Não dormi? Acho que não. Mas vou dormir agora.”
- () “Um pensamento puxa outro, que puxa outro, que puxa outro (...)”

A sequência correta dessa associação é

- a) 1, 2, 1, 2, 1.
- b) 2, 1, 2, 1, 2.
- c) 1, 1, 2, 2, 1.
- d) 2, 2, 1, 1, 2.

QUESTÃO 06

Acerca da classificação gramatical dos vocábulos sublinhados a seguir, informe se é verdadeiro (V) ou falso (F) o que se afirma sobre as frases transcritas do texto **Insônia**.

() Na frase “Dormi. Não dormi? Acho que não. Mas vou dormir agora.”, “Mas” é uma preposição.

() Em “Vou pegar no sono em cinco minutos. Boa noite.”, “Boa” é um adjetivo ao lado de um substantivo.

() Em “Cinco minutos é tempo de sobra pra uma pessoa pegar no sono, quer ver?”, “uma” é um artigo definido.

() Na frase “Senão os pensamentos começam a entrar na minha cabeça e, aí, minha filha, nunca mais.”, “minha” é um pronome.

De acordo com as afirmações, a sequência correta é

- a) F, F, V, V.
- b) V, V, F, F.
- c) F, V, F, V.
- d) V, F, V, F.

QUESTÃO 07

No texto **Insônia**, é correto afirmar que a linguagem é, significativamente,

- a) oficial.
- b) formal.
- c) objetiva.
- d) coloquial.

As questões 08 e 09 se referem à tirinha a seguir.



Disponível em: <<https://brainly.com.br/tarefa/20624913>>. Acesso em: 7 jan. 2020. Adaptado.

QUESTÃO 08

Há uma inadequação no emprego de um dos pronomes na tirinha, que se refere à palavra

- a) “ISTO”, pois este pronome de tratamento só é empregado com verbos no tempo passado.
- b) “ISSO”, porque este pronome se refere a pessoas e a coisas que estão próximas de quem fala.
- c) “ME”, porque o correto é escrever “RECUSO-ME”, pois não se inicia frase com pronome oblíquo átono.
- d) “VOCÊ”, por se tratar de um pronome de tratamento e, por isso, não pode acompanhar o verbo; o correto é empregar “TU”.

QUESTÃO 09

“Na língua portuguesa, o acento grave é utilizado para marcar a fusão da preposição “a” com os artigos “a” e “as” e com os pronomes demonstrativos “aquele(s)”, “aquela(s)”, “aquilo”. O acento grave representa a ocorrência da crase”. (BUENO, 2014, p. 67).

A esse respeito, observa-se que, no último quadrinho da tirinha, o acento grave foi empregado indevidamente porque antes de verbo não há acento grave: “ME RECUSO À COMER COMIDA ANÔNIMA.”

Entre as frases a seguir, o acento grave foi corretamente aplicado em

- a) Perguntei àquele menino se gostaria de ler um bom livro.
- b) As crianças brincavam à dois metros de distância dos pais.
- c) Falei à pessoas que se demonstraram muito interessadas pelo assunto.
- d) Entregue o brinde à todas as crianças que comparecerem uniformizadas.

As questões 10 e 11 se referem ao texto a seguir.

Meia

- Você acha que estou meia gordinha?
- Não é meia, é meio.
- Como é que é?
- Não é meia gordinha que se diz. É meio gordinha.
- MEIO gordinha? Imagina. Meio gordinha... Não acredito.
- Se você fosse meia gordinha, significaria que você é só meia, só metade, entende? Só metade gordinha. A outra metade, magrinha.
- Qual parte? A de cima ou a de baixo?

Disponível em: <http://www.educacional.com.br/upload/dados/materia-lapolo/124860001/8866260/ADV%C3%89RBIOS.pdf>>. Acesso em: 10 jan. 2020.

QUESTÃO 10

Avalie as seguintes afirmações sobre o emprego dos sinais de pontuação no texto **Meia**.

- I – As reticências servem para indicar a interrupção de uma ideia.
- II – Os travessões foram empregados para isolar palavras ou frases.
- III – Os pontos de interrogação aparecem no final de interrogações indiretas.
- IV – Os pontos finais representam uma pausa máxima e indicam que o período está finalizado.

Está correto apenas o que se afirma em

- a) I.
- b) I e IV.
- c) II e III.
- d) III e IV.

QUESTÃO 11

“As palavras na língua portuguesa admitem variações em sua forma, isto é, podem mudar sua terminação a fim de determinar a alteração de significado. Essa variação é chamada flexão. As que se flexionam são variáveis e as que não se flexionam são invariáveis. (BUENO, 2014, p. 106.)

Em relação à flexão de gênero (feminino e masculino), preencha corretamente as lacunas sobre o texto **Meia**.

A personagem da primeira fala do texto não entendeu que a palavra “meio”, no sentido de “um pouco” é um _____ e, por isso, é invariável. A palavra “meia”, no feminino, com o sentido de “metade”, pode variar porque é um _____. Para além do texto, outra forma da mesma palavra ser variável é quando ela é um _____, como, por exemplo, na frase “O meio mais fácil de você conseguir emagrecer é com dieta”.

A sequência que preenche corretamente as lacunas do texto é

- a) numeral / substantivo / adjetivo
- b) advérbio / adjetivo / substantivo
- c) adjetivo / advérbio / substantivo
- d) substantivo / substantivo / numeral

As questões 12 e 13 se referem à charge a seguir.



Disponível em: <<https://atividadesdeportugueseliteratura.blogspot.com/2016/05/interpretacao-de-charges.html>>. Acesso em: 10 jan. 2020.

QUESTÃO 12

“Um autor pode criar seu texto inteiramente a partir de outros já existentes, ou apenas recorrer a citações, partes ou ideias de textos alheios.” (SARMENTO, 2013, p. 238)

A esse respeito e utilizando-se da intertextualidade, o diálogo entre a charge e a fábula tradicional de “Os três porquinhos” possui o propósito de

- a) alertar sobre a necessidade de se pagar imposto residencial.
- b) atualizar a fábula de “Os três porquinhos” para crianças do século XXI.
- c) mostrar que os porquinhos têm mais medo do despejo do que do lobo.
- d) expulsar, modernamente, os porquinhos para que o lobo possa pegá-los.

QUESTÃO 13

Dentre os gêneros caracterizados pela produção de humor, há a charge e o cartum. A charge **CONTOS DE FADAS ATUALIZADOS** satiriza questões sociais, ou seja, a dificuldade que as pessoas enfrentam sobre questões habitacionais, quando o Lobo Mau apresenta um documento de despejo. No cartum, há, também, um conteúdo de crítica social.

Sobre as diferenças entre charge e cartum, associe corretamente o gênero textual ao seu conceito.

GÊNEROS TEXTUAIS

- 1 - Charge
- 2 - Cartum

CONCEITOS

- () Utiliza-se de críticas sobre acontecimentos presentes ou recentes.
- () Apresenta como personagens pessoas comuns e anônimas.
- () Expõe críticas de situações que poderiam acontecer em qualquer tempo ou lugar.
- () Significa “carga”, por representar uma crítica carregada de ataque exagerado à sociedade.

A sequência correta dessa associação é

- a) 2, 2, 1, 1.
- b) 1, 1, 2, 2.
- c) 2, 1, 1, 2.
- d) 1, 2, 2, 1.

As questões 14 e 15 se referem ao texto a seguir.

Uma história de outro jeito

Era uma vez um beija-flor
que se apaixonou por uma violeta.
Não era uma violeta maior nem mais bonita do que as outras,
mas tinha um jeitinho irresistível de se inclinar sobre a haste
de se mostrar, meio se escondendo, por entre as folhas.
E o beija-flor, que beijava todas as flores,
só se encantava do perfume e da cor
da violeta preferida.
Enquanto isso a violeta, beijada por outros beija-flores,
só conhecia de cor a cor de cada uma das penas,
o ruído das asas, o toque manso do bico
de seu beija-flor preferido...

Disponível em: <<http://portaldoprofessor.mec.gov.br/storage/materiais/0000014237.pdf>>. Acesso em: 12 jan. 2020.

QUESTÃO 14

Considerando-se a leitura do texto **Uma história de outro jeito**, é correto afirmar que

- a) o beija-flor procurava em outras flores a sua violeta.
- b) a violeta e o beija-flor se apaixonaram um pelo outro.
- c) outros beija-flores beijavam a violeta porque ela se exibia.
- d) não há como um beija-flor e uma violeta preferirem um ao outro.

QUESTÃO 15

A palavra “beija-flor”, no texto **Uma história de outro jeito**, possui hífen porque

- a) é uma palavra composta formada por uma locução.
- b) é um termo composto que designa espécie zoológica.
- c) a primeira palavra é um prefixo tônico que se une a um substantivo.
- d) o primeiro elemento termina por vogal e o segundo elemento começa por consoante.

ATUALIDADES

QUESTÃO 16

A charge apresenta o desenho do planeta Terra.



Fonte: encurtador.com.br/eqtTU. Acesso em: 02 fev. 2020.

É correto afirmar que essa ilustração critica

- a) a poluição causada pelo homem.
- b) a falta de locais para estacionar carros.
- c) o consumo de garrafas e copos recicláveis.
- d) o uso de chaminés nas casas do Polo Norte.

QUESTÃO 17

Sobre as divisões político-administrativas e regionais do Brasil, preencha corretamente as lacunas do texto a seguir.

Se o cidadão nasce na capital _____ e depois se muda para a capital _____, significa que ele saiu da região _____ e foi para a região _____ do Brasil.

A sequência que preenche corretamente as lacunas do texto é

- a) São Luís / Palmas / Norte / Sudeste
- b) Porto Velho / Manaus / Sul / Nordeste
- c) Belo Horizonte / Curitiba / Sudeste / Sul
- d) Florianópolis / Goiânia / Centro-Oeste / Norte

QUESTÃO 18

O cargo político que representa a autoridade máxima do Poder Executivo em um estado do Brasil é o de

- a) senador.
- b) prefeito.
- c) governador.
- d) deputado federal.

QUESTÃO 19

Durante o período do Brasil Colonial, a mão de obra escravizada era oriunda da

- a) Ásia.
- b) África.
- c) Europa.
- d) Oceania.

QUESTÃO 20

Um tipo de vegetação predominante na região Norte do Brasil é a

- a) Caatinga.
- b) Mata Atlântica.
- c) Mata de Araucárias.
- d) Floresta Amazônica.

MATEMÁTICA

QUESTÃO 21

Em um sacolão onde abacaxis e brócolis são vendidos na unidade, Cecília comprou uma dúzia de abacaxis por R\$ 60,00. Se a unidade do brócolis é R\$1,00 mais barata que a de cada abacaxi, o valor correto de uma dezena de brócolis, em reais, é igual a

- a) 30.
- b) 35.
- c) 40.
- d) 45.

QUESTÃO 22

Para o cargo de prefeito de uma cidade, concorrem 2 candidatos: Antônio e João. Dois dias antes da eleição, foi divulgado o resultado de uma pesquisa de intenção de votos realizada com 700 eleitores dessa cidade cujo resultado das intenções de voto para Antônio e João está expresso no quadro a seguir.

CANDIDATOS	INTENÇÃO DE VOTOS
Antônio	357
João	300

Supondo-se que na eleição votaram 22.400 pessoas e que os votos recebidos por cada candidato foi diretamente proporcional ao resultado da pesquisa, o número correto de votos recebidos por Antônio corresponde a

- a) 10.600.
- b) 11.424.
- c) 12.337.
- d) 13.410.

QUESTÃO 23

Considerando-se os números inteiros e positivos, informe se é verdadeiro (V) ou falso (F) o que se afirma.

- () Existem números divisíveis por 5 que são pares.
- () Todo número divisível por 6 também é múltiplo de 2 e de 3.
- () A soma de dois números ímpares é sempre um número par.
- () Todos os múltiplos de 3 têm o algarismo das unidades igual a um número ímpar.

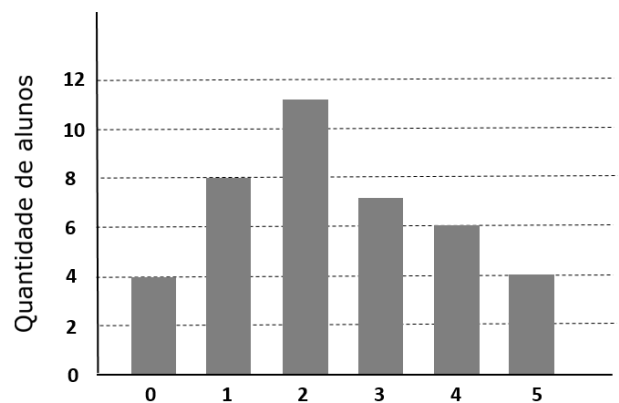
De acordo com as afirmações, a sequência correta é

- a) V, V, V, F.
- b) V, V, F, F.
- c) F, F, F, V.
- d) F, F, V, V.

QUESTÃO 24

Os alunos de uma turma fizeram uma prova contendo 5 questões, sendo que em cada uma os alunos marcavam V (verdadeiro) ou F (falso) e apenas uma dessas opções era correta. Cada acerto valia um ponto e, em caso de erro, o aluno não ganhava nem perdia ponto.

A figura a seguir representa o gráfico elaborado pelo professor após a correção, relacionando as quantidades de acertos totais de cada aluno nas provas.



Assim, sobre os valores apresentados no gráfico, é correto afirmar que

- a) a quantidade total de alunos analisada é igual a 50.
- b) a média aritmética das notas desses alunos é igual a 2.
- c) mais da metade dos alunos teve nota igual a 2.
- d) pelo menos 8 alunos tiveram nota superior a 3.

QUESTÃO 25

Em um curso, 70% dos alunos foram aprovados após uma avaliação. Entre os que não foram aprovados, todos tiveram uma nova oportunidade para fazer uma segunda avaliação e, assim, 75% desses inicialmente reprovados obtiveram nota para aprovação.

Sabendo-se que após a segunda avaliação o número total de aprovados no curso correspondia a 111 alunos, então o número de alunos reprovados, ao final, era

- a) maior que 20.
- b) entre 15 e 20.
- c) entre 10 e 15.
- d) menor que 10.

QUESTÃO 26

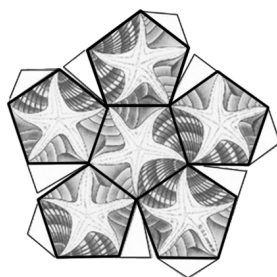
Maurits Cornelis Escher, M. C. Escher, artista plástico holandês, viveu no século XX. Muitos dos seus trabalhos eram inspirados em objetos e padrões matemáticos.

Um dos seus desenhos está no dodecaedro regular que é formado por figuras planas congruentes, como representado na figura 1. Na figura 2 temos uma parte da planificação do dodecaedro contemplando 6 faces.

Figura 1



Figura 2



Fonte: <http://portaldoprofessor.mec.gov.br/fichaTecnicaAula.html?aula=23463>. Acesso em 05 fev. 2020. Adaptado.

Se a figura plana que corresponde a uma das faces do dodecaedro tem lado medindo 10 cm, então o perímetro dessa figura, em centímetros, é igual a

- a) 120.
- b) 100.
- c) 50.
- d) 40.

QUESTÃO 27

Num prédio residencial o valor mensal a pagar pela água é dividido entre os condôminos de forma proporcional ao número de moradores no apartamento; quanto mais moradores no apartamento maior será o valor a ser pago. O prédio tem 25 moradores e num determinado mês o valor total da água foi de R\$ 630,75.

Nesse mês, o apartamento onde moram exatamente 7 pessoas deverá pagar pela água, em reais, o valor de

- a) 169,38.
- b) 176,61.
- c) 185,45.
- d) 193,56.

QUESTÃO 28

Dois amigos inventaram uma brincadeira para lembrar as propriedades das figuras geométricas. Nela o primeiro jogador informa as características da figura e, a partir dessas características, o segundo indica uma figura correspondente com as características solicitadas. Num determinado momento, o primeiro jogador disse: “Quero uma figura que possa ter, no máximo, 2 ângulos retos.”

A figura que representa uma resposta correta para o pedido feito está mencionada em

- a) losango.
- b) quadrado.
- c) retângulo.
- d) trapézio.

QUESTÃO 29

Um programa de TV está transmitindo uma corrida de bicicletas num circuito fechado. Nele existem três pontos que registram o tempo gasto pelos competidores para percorrer cada um dos três trechos da pista. A partir do segundo colocado, a emissora informa o tempo em comparação ao do primeiro colocado naquela volta.

O primeiro colocado, na 21ª volta, gastou 2 min e 35 seg para completá-la. Os registros para o 2º colocado, nessa volta, são apresentados a seguir.

	1º Colocado	2º Colocado
Trecho 1	50 seg	+ 8 seg
Trecho 2	1 min 5 seg	- 10 seg
Trecho 3	40 seg	+ 13 seg
Tempo na 21ª volta	2 min 35 seg	

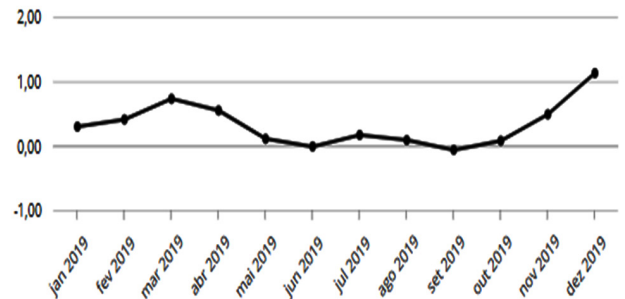
Com base nesses dados, é correto afirmar que, para completar essa volta, o segundo colocado gastou 2 min e

- a) 46 seg.
- b) 48 seg.
- c) 51 seg.
- d) 53 seg.

QUESTÃO 30

O gráfico a seguir mostra a variação do Índice Nacional de Preços ao Consumidor (IPCA) no período de janeiro a dezembro de 2019.

Varição mensal - Brasil



Fonte: <https://www.ibge.gov.br/indicadores#ipca>. Acesso em: 05 fev. 2020. Adaptado.

Com base nesse gráfico, é correto afirmar que

- a) o IPCA não teve variação negativa nesse período.
- b) os valores do IPCA em março e abril são exatamente iguais.
- c) se o IPCA mantiver a variação apresentada de novembro 2019 a dezembro 2019, o IPCA em janeiro 2020 será maior que 1.
- d) o menor valor do IPCA registrado no período de janeiro a dezembro de 2019 ocorreu em maio de 2019.

CONCURSO PÚBLICO DA PREFEITURA MUNICIPAL DE TIMÓTEO

EDITAL Nº001/2019 E RETIFICAÇÕES

GABARITO (RASCUNHO)

LÍNGUA PORTUGUESA

- 01 A B C D
- 02 A B C D
- 03 A B C D
- 04 A B C D
- 05 A B C D
- 06 A B C D
- 07 A B C D
- 08 A B C D
- 09 A B C D
- 10 A B C D
- 11 A B C D
- 12 A B C D
- 13 A B C D
- 14 A B C D
- 15 A B C D

ATUALIDADES

- 16 A B C D
- 17 A B C D
- 18 A B C D
- 19 A B C D
- 20 A B C D

MATEMÁTICA

- 21 A B C D
- 22 A B C D
- 23 A B C D
- 24 A B C D
- 25 A B C D
- 26 A B C D
- 27 A B C D
- 28 A B C D
- 29 A B C D
- 30 A B C D

ATENÇÃO:
AGUARDE AUTORIZAÇÃO
PARA VIRAR O CADERNO DE PROVA.